



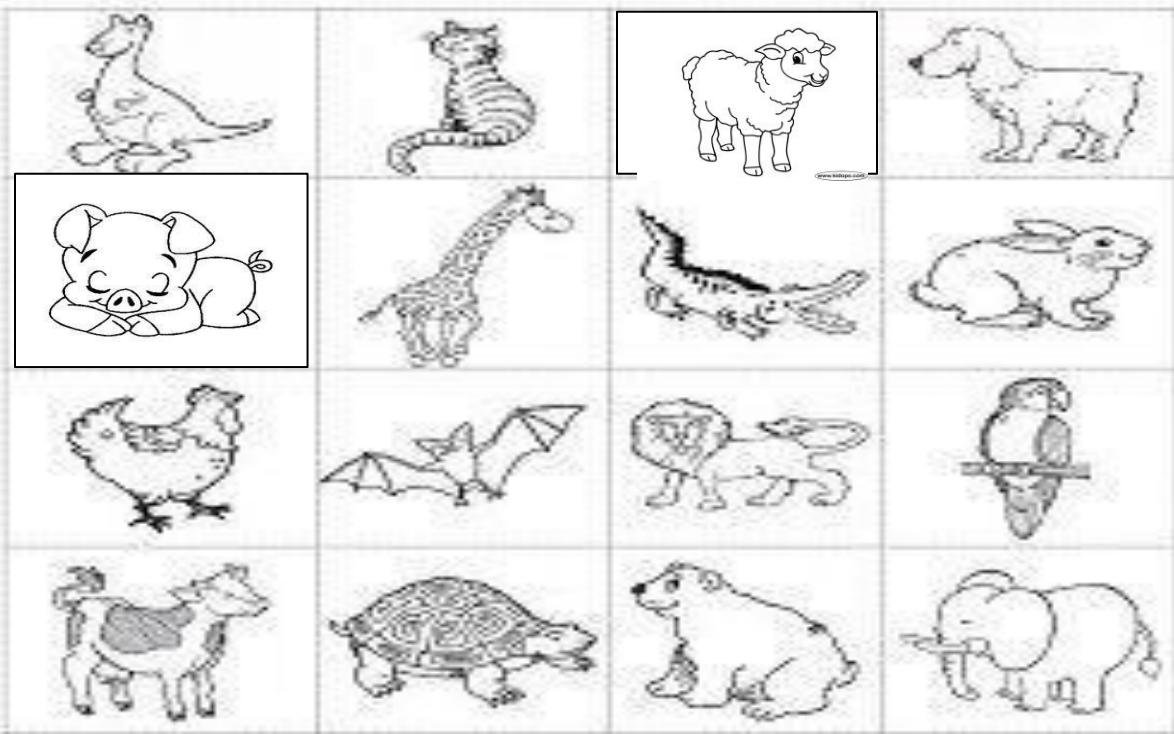




TALLER DE CIENCIAS  
TERCER PERÍODO ACADÉMICO 2016

Nombre: \_\_\_\_\_ Grado 2<sup>a</sup> Fecha: \_\_\_\_\_

Observa las siguientes imágenes y responde las preguntas del 1 al 10 sin omitir ningún animal y escriba el nombre de cada uno de ellos en la imagen.







3. De acuerdo a su alimentación clasifica los animales anteriores en:

CARNÍVOROS

HERVÍBOROS

OMNÍVOROS

CARROÑEROS






<b>DESPLAZAMIENTO CON ALAS</b>

<b>DESPLAZAMIENTO CON ALETAS</b>

<b>DESPLAZAMIENTO CON VIENTRE</b>

6. De acuerdo a las imágenes anteriores clasifique los animales en:

<b>ANIMALES SALVAJES/SILVESTRES</b>

<b>ANIMALES DOMÉSTICOS</b>



6. Clasifique los animales dados aquellos que pertenecen a la granja

ANIMALES DE GRANJA

7. Dibuje y escriba:

DIBUJE	ESCRIBA Y DIBUJE LOS DERIVADOS O UTILIDAD AL HOMBRE
VACA	
OVEJA	
CERDO	
GALLINA	









10. Clasifique los animales de acuerdo a su hábitat:

<b>ACUÁTICOS</b>

<b>TERRESTRES</b>

<b>AÈREOS</b>



COLEGIO JORBALÁN-LA CARO II  
RELIGIOSAS ADORATRICES

**TALLER DE SOCIALES**

**TERCER PERÍODO ACADÉMICO 2.016**

Nombre: \_\_\_\_\_ Grado 2<sup>a</sup> Fecha:

1. Dibuje el relieve y escriba los nombres de: cordillera, montaña, colina, nevado, volcán, sierra, valle, llanura, meseta, río y laguna.



Observa la siguiente imagen y colorea la respuesta 2



2. La anterior imagen corresponde a:

Falla estructural

Falla geológica

Falla mágica

Elija la respuesta correcta.

3. Podríamos decir que la anterior imagen ocurrió porque:

- a. Hubo un mal trabajo en el pavimento.
- b. Hubo roturas en las rocas lo cual ha se originó por movimiento
- c. Hubo un rayo que cayó a tierra y produjo esta abertura.
- d. Hubo un pintor que hizo líneas quebradas.

4. Observa la imagen y colorea la región Andina.





5. Ubique las cordilleras en el mapa con sus respectivos nombres y dale título al mapa.



0



6. Ubique los dos ríos principales de la región Andina y las lagunas de: LA COCHA, FUQUENE y TOTA . Colóquele el título correspondiente al mapa.





Observa la siguiente imagen



7. De acuerdo a la imagen anterior correspondería:

- a. El chulo de los Andes
- b. El buitre de los Andes
- c. El cóndor de los Andes
- d. El ave los Andes

8. El nombre de la REGION ANDINA proviene de:

- a. Cordillera central
- b. Cordillera oriental
- c. Cordillera de los Andes
- d. Cordillera occidental

Elija varias respuestas

9. Las ferias y fiestas que más sobresalen en la Región Andina son

- a. Carnaval de blancos y negros
- b. Carnaval de barranquilla
- c. Feria de Cali
- d. Feria de las flores.

10. Escriba y dibuje dos platos típicos de la región Andina.